





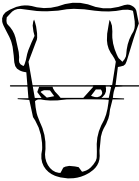



Рассмотрите фотографию собаки породы немецкий пинчер. Выберите характеристики, соответствующие ее внешнему строению, по следующему плану: окрас собаки, форма головы, форма ушей, положение шеи, форма хвоста. При выполнении работы используйте линейку и карандаш.



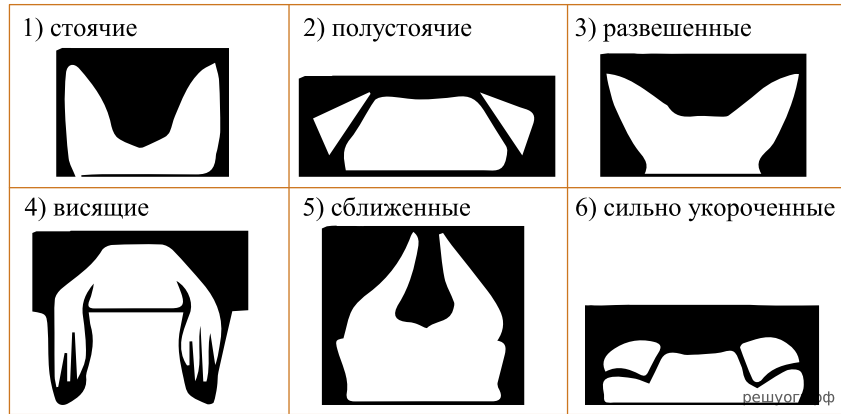
**А. Окрас**

<p>1) однотонный</p> 	<p>2) пятнистый (два и более пятен)</p> 
<p>3) чепрачный (одно пятно)</p> 	<p>4) подпалый</p> 

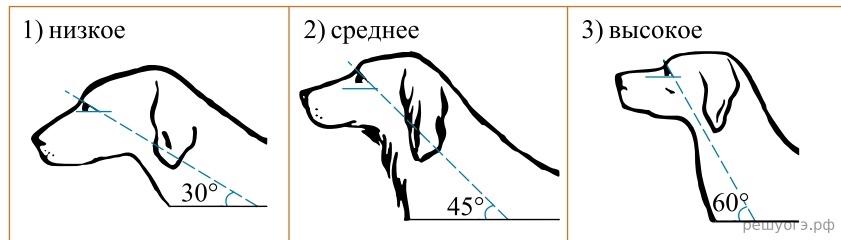
**Б. Форма головы**

<p>1) клинообразная</p> 	<p>2) скуластая</p> 
<p>3) грубая с выпуклым лбом, резким переходом ото лба к морде, вздёрнутой и короткой мордой</p> 	<p>4) легая, сухая с плоским лбом, слабо выраженным переходом ото лба к морде</p> 

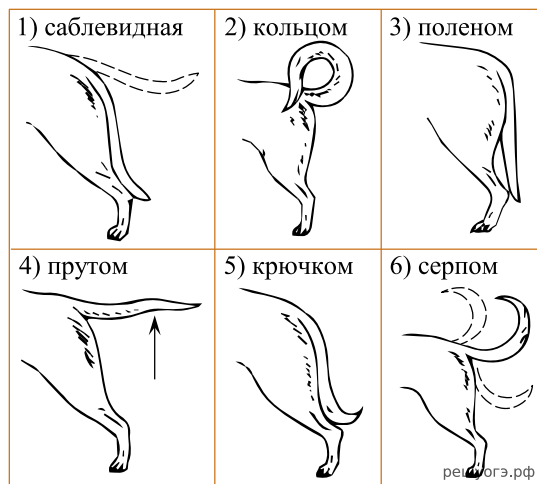
**В. Форма ушей**



Г. Положение шеи (пунктирная линия, образующая угол с горизонтальной плоскостью, параллельна задней поверхности шеи и проходит через глаз)



Д. Форма хвоста



Запишите в ответ цифры, расположив их в порядке, соответствующем буквам:

А	Б	В	Г	Д