





Задания

Задания Д В24 № 3716

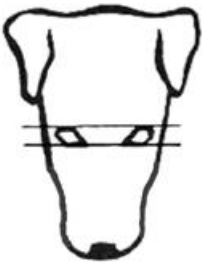

Рассмотрите фотографии собаки породы бультерьер. Выберите характеристики, соответствующие её внешнему строению, по следующему плану: окрас собаки, форма головы, форма ушей, положение шеи, форма хвоста. При выполнении работы используйте линейку.


А. Окрас









<p>1) однотонный</p> 	<p>2) пятнистый (два и более пятен)</p> 
<p>3) чепрачный (одно пятно)</p> 	<p>4) подпалый</p> 

Б. Форма головы

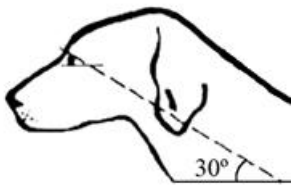
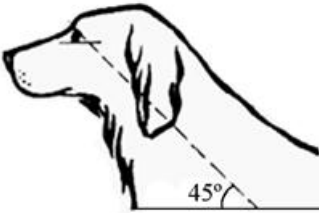
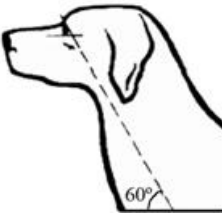
<p>1) клинообразная</p> 	<p>2) скуластая</p> 
<p>3) грубая с выпуклым лбом, резким переходом ото лба к морде, вздёрнутой и короткой мордой</p>	<p>4) легая, сухая с плоским лбом, слабо выраженным переходом ото лба к морде</p>






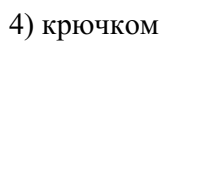
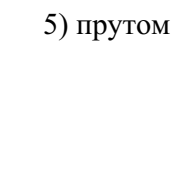
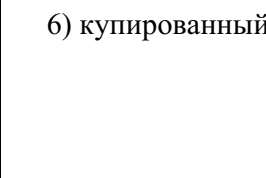
В. Форма ушей

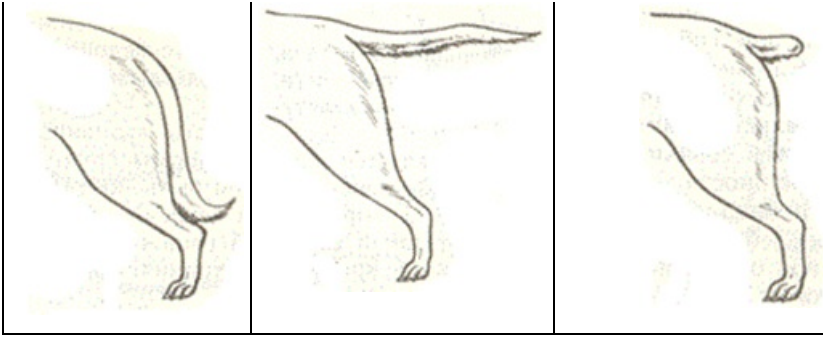
1) стоячие 	2) полустоячие 	3) развешенные 
4) висящие 	5) сближенные 	6) сильно укороченные 

Г. Положение шеи (пунктирная линия, образующая угол с горизонтальной плоскостью, параллельна задней поверхности шеи и проходит через глаз)

1) низкое 	2) среднее 	3) высокое 
--	---	--

Д. Форма хвоста

1) саблевидная 	2) кольцом 	3) поленом 
4) крючком 	5) прутом 	6) купированный 




Впишите в таблицу цифры выбранных ответов под соответствующими буквами.

А	Б	В	Г	Д

Пояснение.

Это задание ещё не решено, приводим решение [прототипа](#).

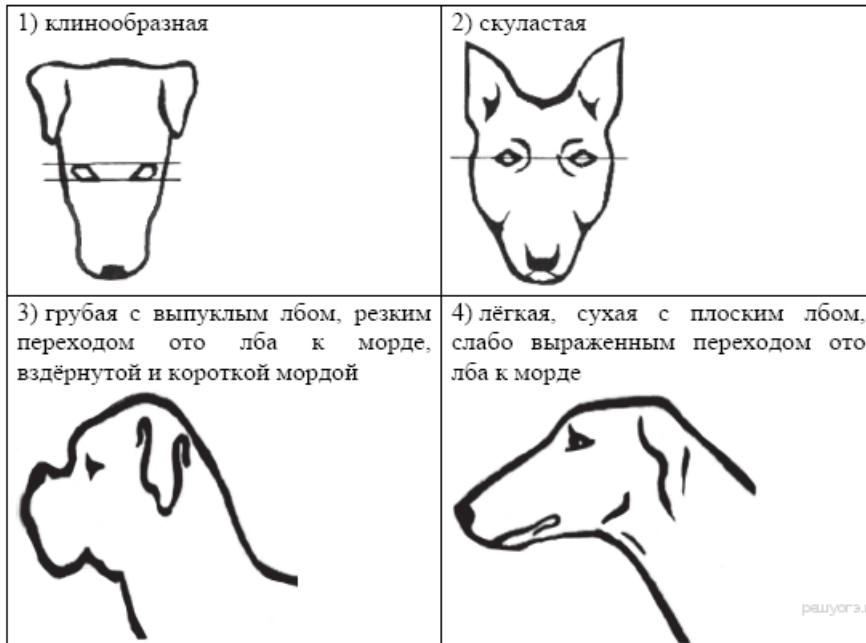
Рассмотрите фотографии собаки породы бультерьер. Выберите характеристики, соответствующие её внешнему строению, по следующему плану: окрас собаки, форма головы, форма ушей, положение шеи, форма хвоста. При выполнении работы используйте линейку и карандаш.



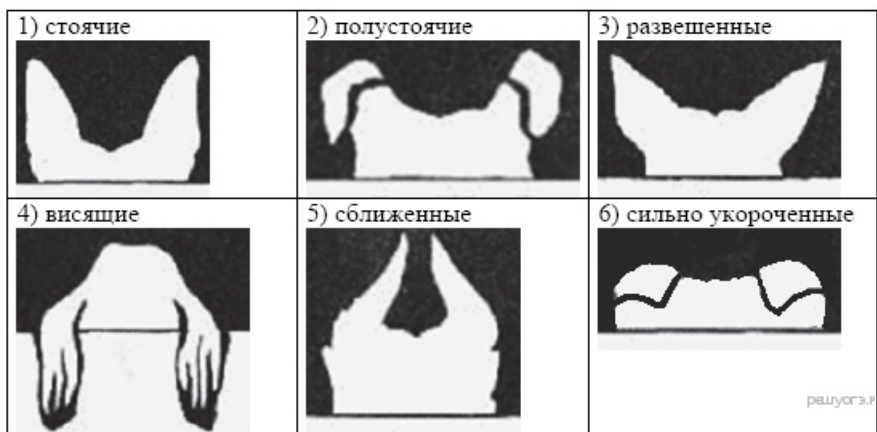
А. Окрас

<p>1) однотонный</p>	<p>2) пятнистый</p>
<p>3) чепрачный</p>	<p>4) подпалый</p>

Б. Форма головы



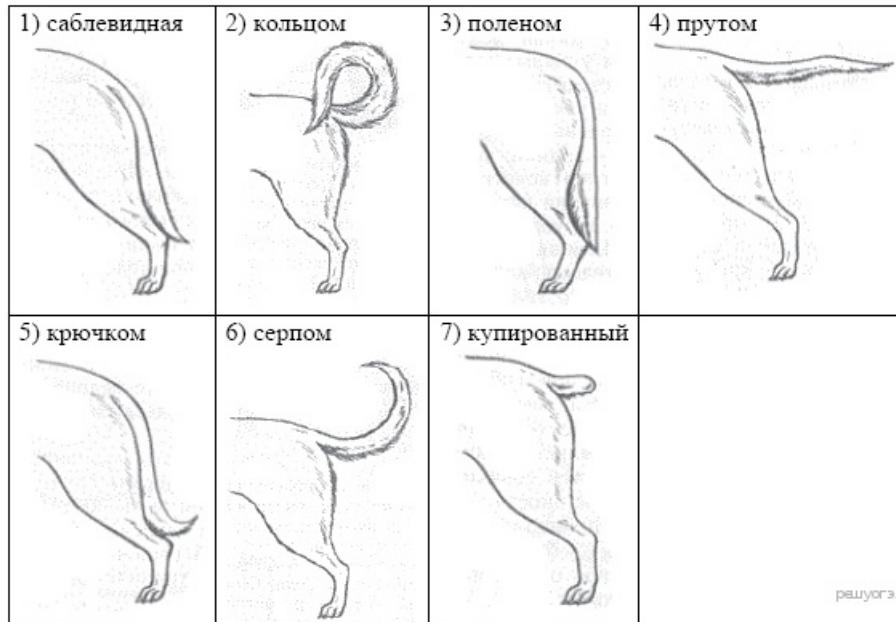
В. Форма ушей



Г. Положение шеи (пунктирная линия, образующая угол с горизонтальной плоскостью, параллельна задней поверхности шеи и проходит через глаза)



Д. Форма хвоста



Запишите в ответ цифры, расположив их в порядке, соответствующем буквам:

А Б В Г Д

Характеристика породы бультерьер. Окрас собаки — чепрачный; форма головы — скуластая; форма ушей — развешенные; положение шеи — среднее; форма хвоста — прутом. При чепрачном окрасе у собаки темная спина, с которой черный, серый или коричневый цвет равномерно опускаются на бока, образуя так называемый «чепрак».

Ответ: 32324.

[Прототип задания](#)