





## Задания

### Задания Д В24 № 6300


Укажите рисунок, на котором изображён плод ягода.

1)	
2)	
3)	
4)	

**Пояснение.**

Это задание ещё не решено, приводим решение прототипа.

Укажите рисунок, на котором изображён плод ягода.



Под цифрами 1 — костянка, 2 — многокостянка, 3 — яблоко, 4 — ягода.

Правильный ответ указан под номером 4.

[Прототип задания](#)