





Задания

Задания Д В24 № 3716

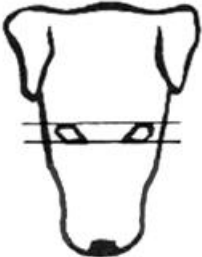

Рассмотрите фотографии собаки породы бультерьер. Выберите характеристики, соответствующие её внешнему строению, по следующему плану: окрас собаки, форма головы, форма ушей, положение шеи, форма хвоста. При выполнении работы используйте линейку.


А. Окрас









| | |
|--|--|
| <p>1) однотонный</p>  | <p>2) пятнистый (два и более пятен)</p>  |
| <p>3) чепрачный (одно пятно)</p>  | <p>4) подпалый</p>  |

Б. Форма головы

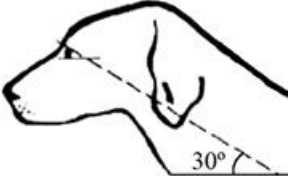


| | |
|---|--|
| <p>1) клинообразная</p>  | <p>2) скуластая</p>  |
| <p>3) грубая с выпуклым лбом, резким переходом ото лба к морде, вздёрнутой и короткой мордой</p> | <p>4) легая, сухая с плоским лбом, слабо выраженным переходом ото лба к морде</p> |









В. Форма ушей

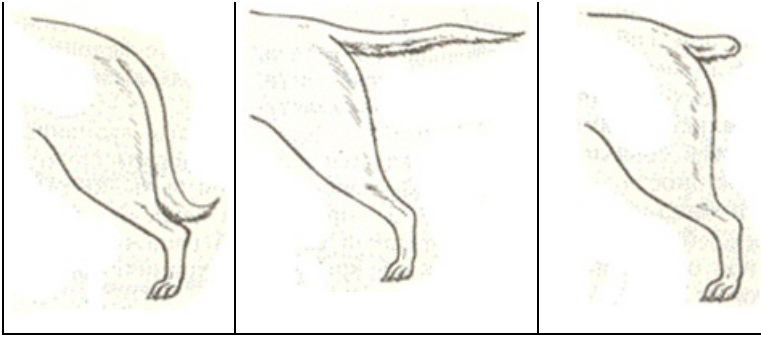
| | | |
|---|---|---|
| 1) стоячие  | 2) полустоячие  | 3) развешенные  |
| 4) висящие  | 5) сближенные  | 6) сильно укороченные  |

Г. Положение шеи (пунктирная линия, образующая угол с горизонтальной плоскостью, параллельна задней поверхности шеи и проходит через глаз)

| | | |
|--|---|--|
| 1) низкое  | 2) среднее  | 3) высокое  |
|--|---|--|

Д. Форма хвоста

| | | |
|---|---|--|
| 1) саблевидная  | 2) кольцом  | 3) поленом  |
| 4) крючком  | 5) прутом  | 6) купированный  |



Впишите в таблицу цифры выбранных ответов под соответствующими буквами.

| А | Б | В | Г | Д |
|---|---|---|---|---|
| | | | | |

Пояснение.

Это задание ещё не решено, приводим решение [прототипа](#).

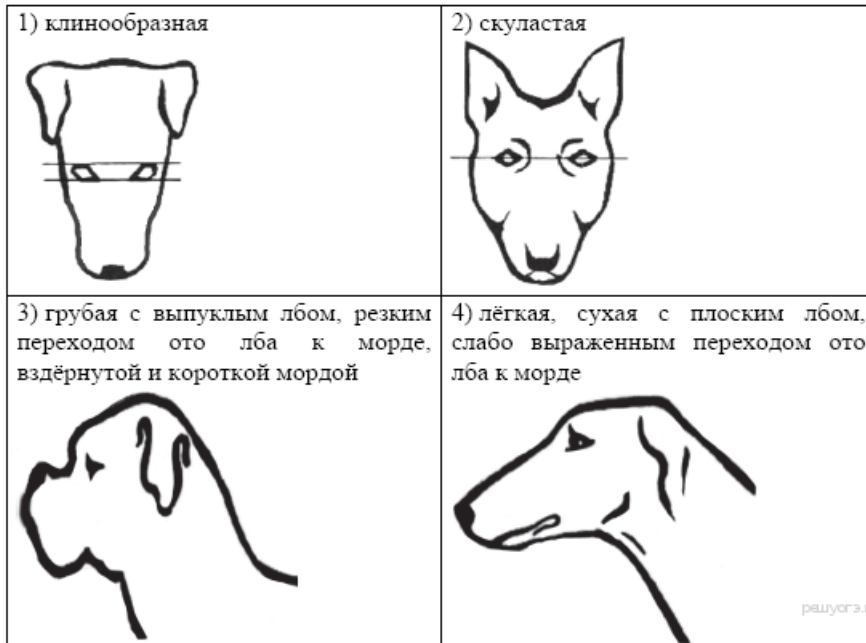
Рассмотрите фотографии собаки породы бультерьер. Выберите характеристики, соответствующие её внешнему строению, по следующему плану: окрас собаки, форма головы, форма ушей, положение шеи, форма хвоста. При выполнении работы используйте линейку и карандаш.




А. Окрас

| | |
|----------------------|---------------------|
| <p>1) однотонный</p> | <p>2) пятнистый</p> |
| <p>3) чепрачный</p> | <p>4) подпалый</p> |

Б. Форма головы



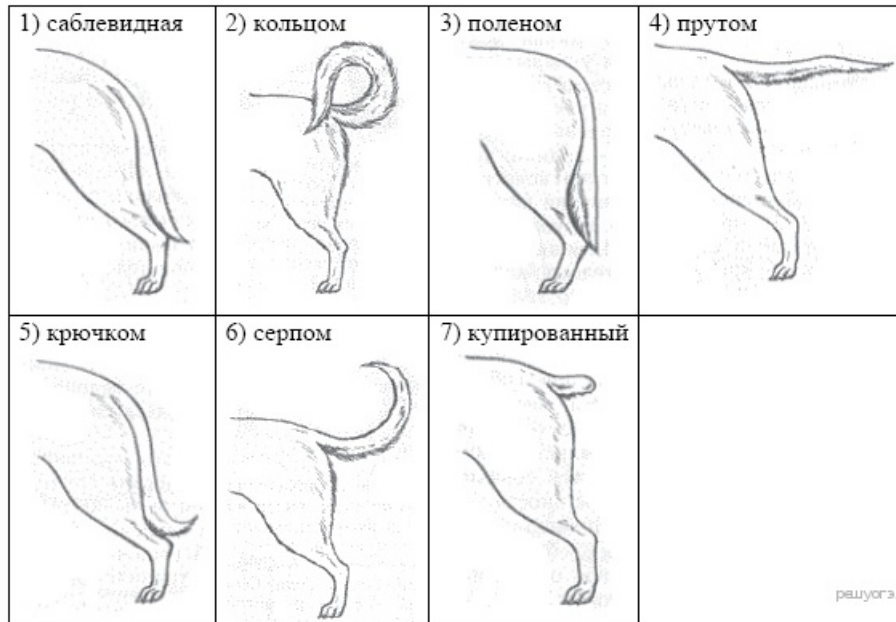
В. Форма ушей



Г. Положение шеи (пунктирная линия, образуя угол с горизонтальной плоскостью, параллельна задней поверхности шеи и проходит через глаз)



Д. Форма хвоста



Запишите в ответ цифры, расположив их в порядке, соответствующем буквам:

А Б В Г Д

Характеристика породы бультерьер. Окрас собаки — чепрачный; форма головы — скуластая; форма ушей — развешенные; положение шеи — среднее; форма хвоста — прутом. При чепрачном окрасе у собаки темная спина, с которой черный, серый или коричневый цвет равномерно опускаются на бока, образуя так называемый «чепрак».

Ответ: 32324.

[Прототип задания](#)